

Hättest du Lust, Weltenbummler zu werden?

Dann solltest du Folgendes beachten:

Als Weltreisender solltest du die wichtigsten geographischen Werkzeuge beherrschen. Dieser kleine Test verrät dir, wie gut du mit ihnen umgehen kannst. Nachdem du den Test gemacht hast, stellt dir deine Lehrerin oder dein Lehrer den Diercke-Reisepass aus. Er verrät dir, ob du schon das Zeug zum Weltenbummler hast, oder ob du lieber noch etwas üben solltest.



Diercke-Reisepass-Test

1. Kennst du dich mit dem Maßstab aus? Kreuze die richtige Antwort an.

a Der Maßstab einer Karte beträgt 1 : 20 000. Das bedeutet, 1 cm auf der Karte sind in der Wirklichkeit:

20 000 cm

2 000 cm

200 cm

b Der Maßstab einer Karte beträgt 1 : 5 000. Das bedeutet, 1 cm auf der Karte sind in der Wirklichkeit:

5 cm

500 cm

5 000 cm

2

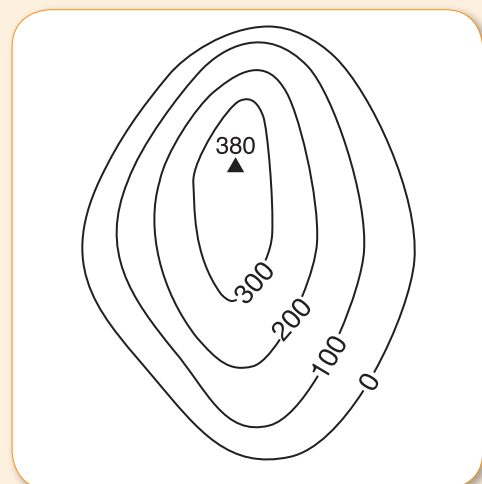

2. Ordne folgende Begriffe den Bildern zu: Schrägluftbild, Senkrechtluftbild


2

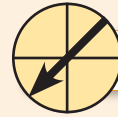
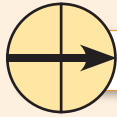
3. Male die Höhenschichten des Berges an. Nun gestalte dazu die Legende.

 **Legende**

Berghöhe
(in Meter)


4

4. In welche Himmelsrichtungen zeigen die Pfeile?



5. Weißt du, was diese Kartensignaturen bedeuten? Du findest sie auf der physischen Karte deines Bundeslandes. Schreibe ihre Namen auf.



6. Wie gut kennst du dich in deinem Bundesland aus? Vervollständige den Text. Nimm die politische Karte von Deutschland zu Hilfe.

In Deutschland gibt es 16 . Du wohnst im Bundesland

. Die Landeshauptstadt heißt

Dein Bundesland grenzt zum Beispiel an dieses Bundesland:

7. Löse das Länder-Rätsel. Du kannst dafür die politische Karte von Europa zu Hilfe nehmen. Trage die hervorgehobenen Buchstaben nacheinander in das Lösungswort ein. Es verrät dir, was diese Länder miteinander verbindet.

1. Welches Land hat die Form eines Stiefels?

2. Wie heißt die Hauptstadt von Ungarn?

3. Welches Land grenzt im Norden an Deutschland?

4. In welches Land kommst du, wenn du von Berlin Richtung Osten fährst?

5. Wie heißt das Land, das zwischen Portugal und Frankreich liegt?

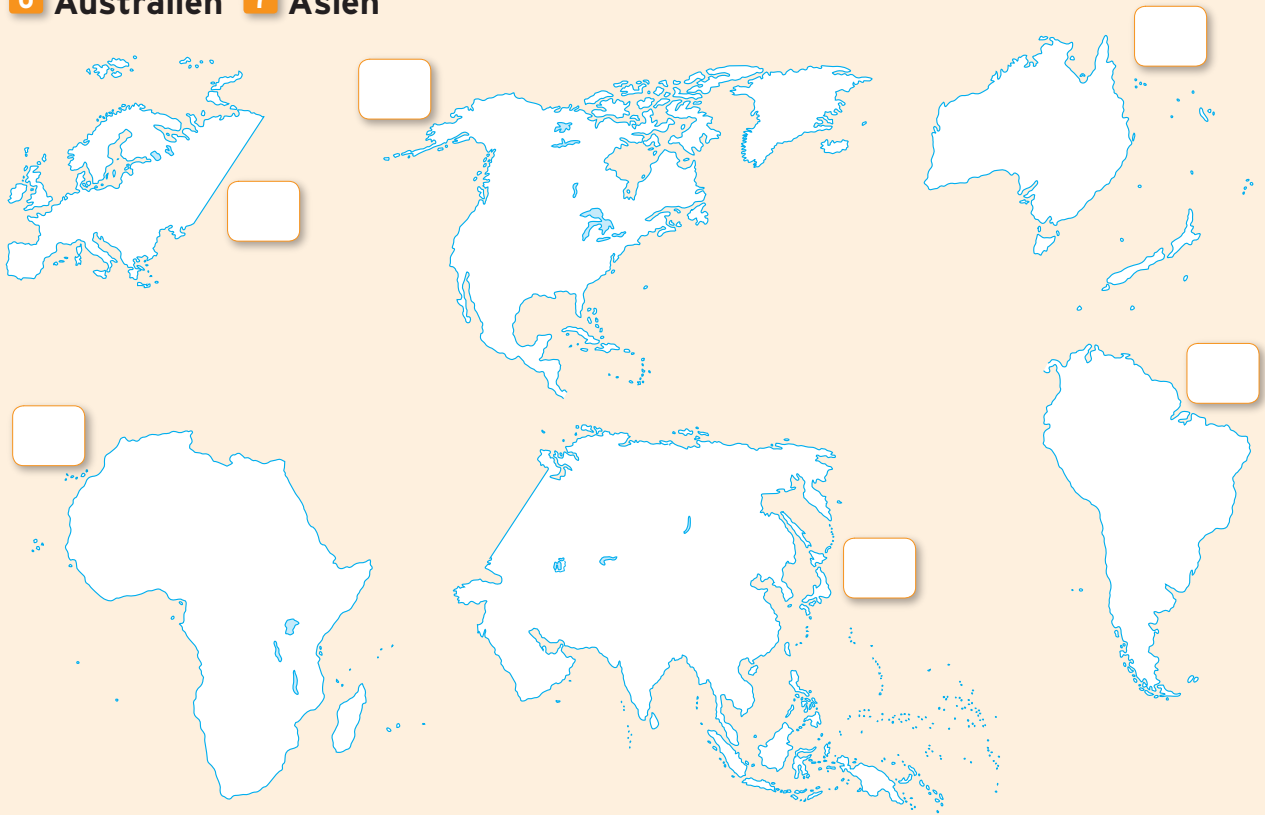
6. Von welchem Land ist Paris die Hauptstadt?

Das Lösungswort:

8. Kennst du die 6 Kontinente der Erde, auf denen Menschen leben? Die Kontinente und ihre Namen sind ein wenig durcheinander geraten. Ordne den Kontinenten die richtigen Zahlen zu:

1 Antarktis 2 Nordamerika 3 Südamerika 4 Europa 5 Afrika

6 Australien 7 Asien



6

Logbuch eines Weltenbummlers

Da war ich schon:

Dort möchte ich einmal hinfahren:

DIERCKE REISEPASS



Logbuch eines Weltenbummlers

9. Kennst du die Rekorde der Kontinente und der Welt? Kreuze die richtigen Lösungen an. Wenn du nicht weiter weißt, kannst du die physische Weltkarte zu Hilfe nehmen.

a Wie heißt der höchste Berg Europas?
 Kilimandscharo Feldberg Montblanc

b Wie heißt der längste Fluss von Afrika?
 Donau Nil Mississippi

c Wie hoch ist der Mount Everest, der höchste Berg der Welt?
 8 846 m 1 846 m 88 146 m

d Wie heißt die tiefste Stelle der Welt?
 Witjastief Loch Ness Islandtief

e Wie heißt der größte Kontinent der Welt?
 Deutschland Asien Australien

5

Gesamtpunktzahl

35



Passfoto

Name

Geburtsdag

Wohnort

Klasse

Schule

27-35 Punkte:

Super, du kennst dich wirklich gut aus und bringst die besten Voraussetzungen für einen erfolgreichen Weltenbummler mit.

18-26 Punkte:

Du kennst dich schon gut aus. Mit deinem Wissen kannst du getrost Weltenbummler werden.

9-18 Punkte:

Das war schon nicht schlecht. Um zum erfolgreichen Weltenbummler zu werden, solltest du aber noch etwas üben.

8 Punkte und weniger:

Das hat noch nicht so gut geklappt. Du musst noch viel üben, bevor du zum Weltenbummler werden kannst.

Datum, Unterschrift der Lehrerin/des Lehrers